

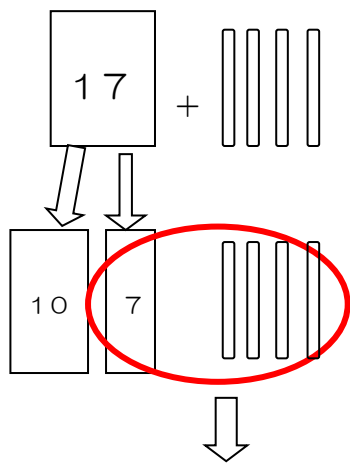
<p>【今日のもくひょう】 17+4の 計算の しかたを、何十を つくってかんがえよう。</p>	<p>お休み中のかだい</p>
------------------------------------------------------	------------------------

<p>さんすう</p>	<p>5月15日（金）かいとう</p>	<p>たし算とひき算</p>
--------------------	----------------------------	-----------------------

P26 6 の問題をよんでこたえましょう。
ポイント…ぶんしょうの ことばから 何算になるかかんがえよう。

活動 式をかきましょう。
6 式 17+4 ノート
ポイント…「ふえると」このことばが できてきたときは何算かな？

めあて 17+4の 計算の しかたを、何十を つくってかんがえよう。 ノート



(せつめい) ノート
 17は10と7に分けられます。
 10はおいておく、のこりの7+4でかんがえると
 (7にいくつたせば10になるかな)
 10が(1)つ、と1が(1)つ
 できる。
 おいてあった10とあたらしくできた
 10のかたまりで(20)、1とあわせると(21)になる。

10が(1)つ と 1 が(1)つ

ポイント…10のまとまりと 1はどれだけできるかな？

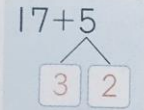
式 $17+4=(21)$ 答え(21)まい ノート

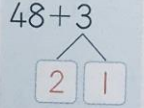
活動 7 $38+3$ をといてみよう。
 ポイント… 38は 30と8にわけられます。
 30はおいておく 8+3を考えて(8にいくつたせば10になるかな?)
 その次に、おいてあった30とあわせよう。

式 $38+3=41$ 答え 41

活動 8 9 10 の問題をといてみよう。

8 にあてはまる数をかきましょう。

① $17+5$ 17に 3 をたして 20
 20と 2 で 22

② $48+3$ 48に 2 をたして 50
 50と 1 で 51

9 ①22 ②26 ③24 ④21

10 ①42 ②83 ③64 ④32

ふりかえり

この算数で考えたことについて ふりかえりをかいて おうちの人に きいてもらいましょう。