

【今日のもくひょう】

21-8の 計算の しかたを 何十からひいて 考えよう。

お休み中のかだい

さんすう

5月20日(水) かだい

たし算とひき算  
くり下がりのあるひき算

P30

⑥ の問題をよんでこたえましょう。

ポイント…ぶんしょうの ことばから 何算になるかかんがえよう。

活動

式をかきましょう。

⑥ 式 \_\_\_\_\_ ノート

ポイント…「つかうと」このことばが でてきたときは何算かな？

めあて

21-8の 計算の しかたを、何十を つくってかんがえよう。 ノート

ポイント…きょうかしょのやり方もかくにんしてみよう。

(せつめい) ノート

21は10と11にわけられます。

11はおいておく、のこりの10から8をひくと

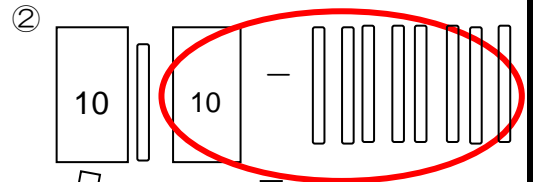
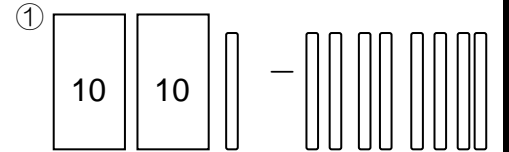
( )まいのこります。

おいていた11と( )まいを あわせると

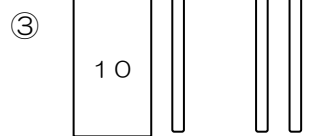
( )になります。

上のぶんしょうをうつしましょう。

21-8 = ( ) ノート



10-8 = ( )



⑧ ⑨ ⑩ の問題をといてみよう。

⑧ は きょうかしょにかきこみましょう。

⑨ ⑩ は ノートにしましょう。

ふりかえり

この算数で考えたことについて ふりかえりをかいて おうちの人に きいてもらいましょう。