

【今日のもくひょう】

10のまとまりや 1をつかって たし算の 計算のしかたを
考えよう。

お休み中のかだい

さんすう

5月14日(金) かいとう

たし算とひき算

P24 何まいになるかな？

もんだいをよんで こたえましょう。

1、そうたさんの 色紙は ぜんぶで 何まいですか。

式 $17+2=19$ こたえ 19まい ノート

ポイント…ぜんぶで→このことばから 何算になるか かんがえよう！

2、あおいさんの 色紙は、ぜんぶで 何まいですか。

式 $17+3$ ノート

◎ これから くり上がりのある 計算のしかたを 学習していきましょう。

P25 1 もんだいをよみましょう。

めあて

10 や 1 をつかって、 $17+3$ の 計算の しかたを かんがえよう。

ノート

ポイント…きょうかしの 図の 説明を してみよう。

10のまとまりが いくつできるかな？

(せつめい) ノート

17は10と7にわけられます。

10はおいておいて、のこりの7に+3をすると

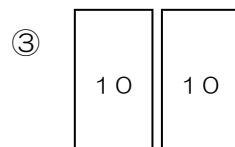
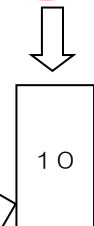
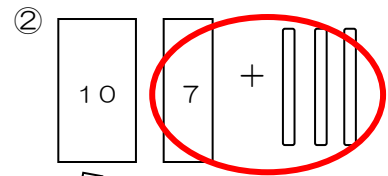
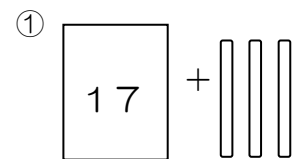
10のまとまりがもう一つできます。

おいておいた10と7+3をしてできた10で

10のまとまりが2つできるので、20になります。

ノートにかけて いなかった時は、
上のぶんしょうをうつしましょう。

$17+3=20$ ノート



活動

②のもんだいをといてみよう。

式 $36+4=40$ 答え 40本

ポイント…たすと→何算になるかな？

P25 ③④⑤ の れんしゅうもんだいに ちょうせんしよう。

③ ①20 ②20 ③20 ④20

④ ①30 ②60 ③70 ④80

⑤ ①8 ②5

ふりかえり

この算数の学しゅうでわかったことや 考えたことをかいて、おうちの人につたえてみよう！