

【今日のもくひょう】

10のまとまりや 1をつかって たし算の 計算のしかたを  
考えよう。

お休み中のかだい

さんすう

5月14日(木) かだい

たし算とひき算

P24

何まいになるかな？

もんだいをよんで こたえましょう。

1、そうたさんの 色紙は ぜんぶで 何まいですか。

式 \_\_\_\_\_ こたえ \_\_\_\_\_ ノート

ポイント…ぜんぶで→このことばから 何算になるか かんがえよう！

2、あおいさんの 色紙は、ぜんぶで 何まいですか。

式 \_\_\_\_\_ ノート

◎ これから くり上がりのある 計算のしかたを 学習していきましょう。

P25

1 もんだいをよみましょう。

めあて

10 や 1 をつかって、 $17+3$ の 計算の しかたを かんがえよう。

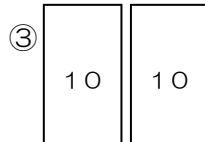
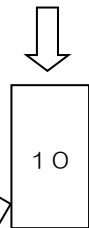
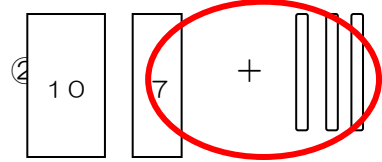
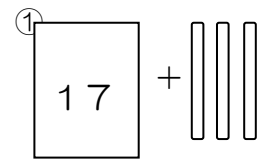
ノート

ポイント…きょうかしの 図の 説明を してみよう。

10のまとまりが いくつできるかな？

(せつめい) ノート

17は10とに  わけられます。  
10はおいておいて、のこりの7に+3をする  
と  のまとまりがもう一つできます。  
おいておいた10と7+3をしてできた10で  
10のまとまりが  つできるので、20に  
なります。



$17+3=$   ノート

活動	<p>②のもんだいをといてみよう。</p> <p>式 _____ 答え _____</p> <p>ポイント…たすと→何算になるかな？</p> <p>P25 △3△4△5 の れんしゅうもんだいに ちょうせんしよう。</p>
ふりかえり	この算数の学しゅうでわかったことや 考えたことをかいて、おうちの人につたえてみよう！