

【今日の目標】 変わり方がよくわかる折れ線グラフをかこう。

休業中の課題

P32

算数

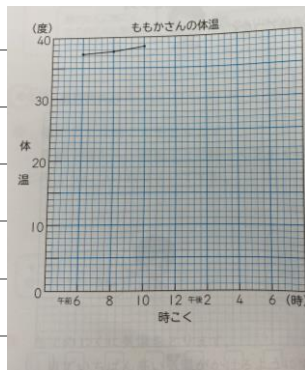
5月14日(木) 課題

折れ線グラフ

めあてをノートに書きましょう。

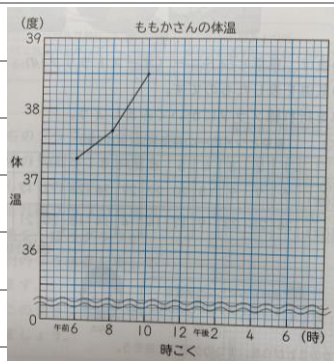
変わり方がよくわかる折れ線グラフをかこう。

P.32 ② ももかさんの体温を折れ線グラフにかいてみましょう。教科書32ページに書きましょう。



線のかたむきが小さいから、
変わり方がわかりにくいね。

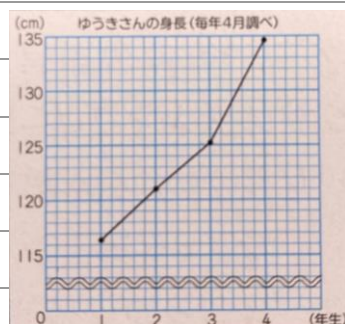
P.33 ③ グラフのつづきをかいてみましょう。



④ 32ページと33ページの折れ線グラフを見て、気づいたことを書きましょう。

[]

③ ゆうきさんの身長を折れ線グラフにかくと、こんなグラフになります。



この問題は、しなくていいです。

--	--